

МИНОБРНАУКИ РОССИИ



Федеральное государственное бюджетное образовательное учреждение
высшего образования
«Российский государственный гуманитарный университет»
(ФГБОУ ВО «РГГУ»)

ИНСТИТУТ ЭКОНОМИКИ, УПРАВЛЕНИЯ И ПРАВА
КАФЕДРА МОДЕЛИРОВАНИЯ В ЭКОНОМИКЕ И УПРАВЛЕНИИ

ЭКОНОМЕТРИКА
РАБОЧАЯ ПРОГРАММА ДИСЦИПЛИНЫ

38.03.01 Экономика

Код и наименование направления подготовки/специальности

Финансы, банки, инвестиции

Наименование направленности (профиля)/ специализации

Уровень высшего образования:

бакалавриат

Форма обучения:

Очная, очно-заочная

РПД адаптирована для лиц
с ограниченными возможностями
здоровья и инвалидов

ЭКОНОМЕТРИКА

Рабочая программа дисциплины

Составители:

доктор физико-математических наук, профессор *В.В. Ульянов*

кандидат физико-математических наук, доцент *С.А. Махов*

УТВЕРЖДЕНО

на заседании кафедры моделирования в
экономике и управлении,

Протокол № 6 от 13.04.2023 г.

ОГЛАВЛЕНИЕ

1. Пояснительная записка.....	4
1.1. Цель и задачи дисциплины.....	4
1.2. Перечень планируемых результатов обучения по дисциплине, соотнесённых с индикаторами достижения компетенций.....	4
1.3. Место дисциплины в структуре образовательной программы.....	5
2. Структура дисциплины.....	6
3. Содержание дисциплины.....	7
4. Образовательные технологии.....	8
5. Оценка планируемых результатов обучения.....	8
5.1. Система оценивания.....	8
5.2. Критерии выставления оценки по дисциплине.....	9
5.3. Оценочные средства (материалы) для текущего контроля успеваемости, промежуточной аттестации обучающихся по дисциплине.....	11
6. Учебно-методическое и информационное обеспечение дисциплины.....	20
6.1. Список источников и литературы.....	20
6.2. Перечень ресурсов информационно-телекоммуникационной сети «Интернет».....	21
7. Материально-техническое обеспечение дисциплины.....	21
8. Обеспечение образовательного процесса для лиц с ограниченными возможностями здоровья и инвалидов.....	21
9. Методические материалы.....	22
9.1. Планы практических занятий.....	22
Приложение 1. Аннотация дисциплины.....	37

1. Пояснительная записка

1.1. Цель и задачи дисциплины

Цель курса – подготовить специалиста, способного на основе описания экономических процессов и явлений строить стандартные теоретические и эконометрические модели, анализировать и содержательно интерпретировать полученные результаты.

Задачи курса:

- овладеть основными математико-статистическими методами построения эконометрических моделей,
- научиться строить эконометрические модели на основе реальных статистических данных,
- развить навыки содержательно интерпретировать построенные модели.

1.2 . Перечень планируемых результатов обучения по дисциплине, соотнесенных с индикаторами достижения компетенций

Компетенция (код и наименование)	Индикаторы компетенций (код и наименование)	Результаты обучения
ОПК-2 Способен осуществлять сбор, анализ и использование данных хозяйственного, налогового и бюджетного учетов, учетной документации, бухгалтерской(финансовой), налоговой и статистической отчетности в целях оценки эффективности и прогнозирования финансово-хозяйственной деятельности хозяйствующего субъекта, а также выявления, предупреждения, локализации и нейтрализации внутренних и внешних угроз и рисков	ОПК-2.1 Осуществляет сбор, анализ и использование данных хозяйственного, налогового и бюджетного учетов, учетной документации, бухгалтерской(финансовой), налоговой и статистической отчетности ОПК-2.2 Оценивает эффективность и прогнозирует финансово-хозяйственную деятельность хозяйствующего субъекта, а также выявляет, предупреждает, локализует и нейтрализует внутренние и внешние угрозы и риски	<i>знать</i> основные математико-статистические методы построения эконометрических моделей и оценки качества моделей.; <i>уметь</i> работать с программными продуктами, позволяющими применить эконометрические методы к анализу реальных статистических данных; <i>владеть</i> навыками содержательной интерпретации построенных эконометрические моделей
ОПК-6 Способен использовать современные информационные технологии и программные средства	ОПК-6.1 Выбирает наиболее эффективные информационные технологии и программные средства для решения	<i>знать</i> основные математико-статистические методы построения эконометрических моделей и оценки качества моделей.;

при решении профессиональных задач	профессиональных задач ОПК-:6.2. Использует современные информационные технологии и программные средства для решения профессиональных задач	<i>уметь</i> работать с программными продуктами, позволяющими применить эконометрические методы к анализу реальных статистических данных; <i>владеть</i> навыками содержательной интерпретации построенных эконометрические моделей
ОПК-7 Способен понимать принципы работы современных информационных технологий и использовать их для решения профессиональной деятельности	ОПК-7.1 Понимает принципы работы современных информационных технологий ОПК 7.2 Использует принципы современных информационных технологий для решения задач профессиональной деятельности	<i>знать</i> основные математико-статистические методы построения эконометрических моделей и оценки качества моделей.; <i>уметь</i> работать с программными продуктами, позволяющими применить эконометрические методы к анализу реальных статистических данных; <i>владеть</i> навыками содержательной интерпретации построенных эконометрические моделей

1.3. Место дисциплины в структуре основной образовательной программы

В результате освоения дисциплины «Эконометрика» формируются знания, умения и владения, необходимые для изучения дисциплин «Экономико-математические модели», «Экономико-математические методы», «Методы оптимальных решений», и совместно с дисциплинами «Математика», «Теория вероятности и математическая статистика» и «Информатика» представляет целостную систему знаний в области математических и статистических методов и информационных технологий, необходимую современному специалисту в области экономики.

2. Структура дисциплины

Общая трудоёмкость дисциплины составляет 3 з.е., 108 академических часов.

Структура дисциплины для очной формы обучения

Объем дисциплины в форме контактной работы обучающихся с педагогическими работниками и (или) лицами, привлекаемыми к реализации образовательной программы на иных условиях, при проведении учебных занятий:

Семестр	Тип учебных занятий	Количество часов
5	Лекции	18
5	Семинары	24
Всего:		42

Объем дисциплины в форме самостоятельной работы обучающихся составляет 48_ академических часов, контроль (экзамен) 18 час.

Структура дисциплины для очно-заочной формы обучения

Объем дисциплины в форме контактной работы обучающихся с педагогическими работниками и (или) лицами, привлекаемыми к реализации образовательной программы на иных условиях, при проведении учебных занятий:

Семестр	Тип учебных занятий	Количество часов
5	Лекции	8
5	Семинары	16
Всего:		24

Объем дисциплины (модуля) в форме самостоятельной работы обучающихся составляет 66 академических часа, контроль (экзамен) 18 час.

3. Содержание дисциплины

Тема 1. Определение эконометрики

Предмет эконометрики. Краткая история возникновения и развития эконометрических исследований. Связь эконометрики с другими областями знаний. Эконометрическая модель как главный инструмент эконометрических исследований. Задачи, решаемые на ее основе. Этапы эконометрического моделирования. Типы данных и виды переменных в эконометрических исследованиях.

Тема 2. Парная регрессия

Спецификация модели. Линейная регрессия и корреляция: смысл и оценка параметров. Метод наименьших квадратов. Свойства оценок параметров. Условия Гаусса – Маркова. Теорема Гаусса – Маркова. Проверка гипотез о статистической значимости параметров модели. Интервальные оценки параметров модели. Интервалы прогноза по линейному уравнению регрессии. Оценка качества модели. Нелинейные регрессии: полиномиальные, степенные, показательные. Методы сведения нелинейных моделей к линейным.

Тема 3. Множественная регрессия

Спецификация модели. Отбор факторов при построении множественной регрессии. Выбор формы уравнения регрессии. Оценка параметров уравнения множественной регрессии. Множественные корреляции. Частные корреляции. Качество модели. Мультиколлинеарность. Фиктивные переменные. Автокорреляция, ее обнаружение. Методы устранения автокорреляции. Гетероскедастичность и гомоскедастичность. Обнаружение и последствия гетероскедастичности. Обобщенный метод наименьших квадратов.

Тема 4. Системы эконометрических уравнений

Общее понятие о системах уравнений, используемых в эконометрике. Составляющие систем уравнений. Инструментальные переменные. Структурная и приведенная форма модели. Проблема идентификации. Оценивание параметров структурной модели. Анализ методов оценивания. Применение систем эконометрических уравнений. Путевой анализ.

Тема 5. Динамические модели

Временные ряды: основные элементы. Моделирование тенденции временного ряда. Моделирование сезонных и циклических колебаний. Методы исключения тенденции. Лаги в экономических моделях. Общая характеристика моделей с распределенным лагом и моделей авторегрессии. Интерпретация параметров моделей с распределенным лагом. Изучение структуры лага и выбор модели с распределенным лагом. Метод Койка. Оценка параметров моделей авторегрессии. Новые направления в анализе многомерных временных рядов.

4. Образовательные технологии

При реализации программы дисциплины «Эконометрика» используются различные образовательные технологии. Во время аудиторных занятий занятия проводятся в виде лекций (с использованием ПК и компьютерного проектора) и практических занятий в компьютерном классе (с использованием специальных компьютерных программ). Самостоятельная работа студентов подразумевает работу под руководством преподавателей (консультации и помощь при выполнении лабораторных работ и индивидуальную работу студента в компьютерном классе или библиотеке.

5. Оценка планируемых результатов обучения

5.1. Система оценивания

В процессе изучения дисциплины проводится рейтинговый контроль знаний undefined в соответствии с Положением РГГУ о его проведении. Он предполагает учет результатов выполнения пяти лабораторных работ на основе компьютерных технологий, результатов самостоятельной работы по выполнению домашних заданий, а также степени участия в дискуссиях, при обсуждении проблемных вопросов на практических занятиях.

Критерии, используемые при проведении рейтингового контроля для студентов, изучающих дисциплину «Эконометрика», представлены в таблице

Вид работы	Баллы
Выполнение 5 лабораторных работ, каждая оценивается максимально в 12 баллов	60 баллов
Итоговая контрольная работа	40

Максимально возможная сумма баллов, набираемых студентом в течение семестра, составляет – 100 баллов.

Полученный совокупный результат (максимум 100 баллов) конвертируется в традиционную шкалу оценок и в шкалу оценок Европейской системы переноса и накопления кредитов (European Credit Transfer System; далее – ECTS) в соответствии с таблицей:

100-балльная шкала	Традиционная шкала		Шкала ECTS
95 – 100	отлично	зачтено	A
83 – 94			B
68 – 82	хорошо		C
56 – 67	удовлетворительно		D
50 – 55			E
20 – 49	неудовлетворительно	не зачтено	FX
0 – 19			F

5.2. Критерии выставления оценки по дисциплине

Баллы/ Шкала ECTS	Оценка по дисциплине	Критерии оценки результатов обучения по дисциплине
100-83/ A,B	«отлично»/ «зачтено (отлично)»/	Выставляется обучающемуся, если он глубоко и прочно усвоил теоретический и практический материал, может продемонстрировать это на занятиях

Баллы/ Шкала ECTS	Оценка по дисциплине	Критерии оценки результатов обучения по дисциплине
	«зачтено»	<p>и в ходе промежуточной аттестации.</p> <p>Обучающийся исчерпывающе и логически стройно излагает учебный материал, умеет увязывать теорию с практикой, справляется с решением задач профессиональной направленности высокого уровня сложности, правильно обосновывает принятые решения.</p> <p>Свободно ориентируется в учебной и профессиональной литературе.</p> <p>Оценка по дисциплине выставляются обучающемуся с учётом результатов текущей и промежуточной аттестации.</p> <p>Компетенции, закреплённые за дисциплиной, сформированы на уровне – «высокий».</p>
82-68/ С	«хорошо»/ «зачтено (хорошо)»/ «зачтено»	<p>Выставляется обучающемуся, если он знает теоретический и практический материал, грамотно и по существу излагает его на занятиях и в ходе промежуточной аттестации, не допуская существенных неточностей.</p> <p>Обучающийся правильно применяет теоретические положения при решении практических задач профессиональной направленности разного уровня сложности, владеет необходимыми для этого навыками и приёмами.</p> <p>Достаточно хорошо ориентируется в учебной и профессиональной литературе.</p> <p>Оценка по дисциплине выставляются обучающемуся с учётом результатов текущей и промежуточной аттестации.</p> <p>Компетенции, закреплённые за дисциплиной, сформированы на уровне – «хороший».</p>
67-50/ D,E	«удовлетвори- тельно»/ «зачтено (удовлетвори- тельно)»/ «зачтено»	<p>Выставляется обучающемуся, если он знает на базовом уровне теоретический и практический материал, допускает отдельные ошибки при его изложении на занятиях и в ходе промежуточной аттестации.</p> <p>Обучающийся испытывает определённые затруднения в применении теоретических положений при решении практических задач профессиональной направленности стандартного уровня сложности, владеет необходимыми для этого базовыми навыками и приёмами.</p> <p>Демонстрирует достаточный уровень знания учебной литературы по дисциплине.</p> <p>Оценка по дисциплине выставляются обучающемуся с учётом результатов текущей и промежуточной аттестации.</p> <p>Компетенции, закреплённые за дисциплиной, сформированы на уровне – «достаточный».</p>

Баллы/ Шкала ECTS	Оценка по дисциплине	Критерии оценки результатов обучения по дисциплине
49-0/ F,FX	«неудовлетворительно»/ не зачтено	<p>Выставляется обучающемуся, если он не знает на базовом уровне теоретический и практический материал, допускает грубые ошибки при его изложении на занятиях и в ходе промежуточной аттестации.</p> <p>Обучающийся испытывает серьезные затруднения в применении теоретических положений при решении практических задач профессиональной направленности стандартного уровня сложности, не владеет необходимыми для этого навыками и приемами.</p> <p>Демонстрирует фрагментарные знания учебной литературы по дисциплине.</p> <p>Оценка по дисциплине выставляется обучающемуся с учётом результатов текущей и промежуточной аттестации.</p> <p>Компетенции на уровне «достаточный», закреплённые за дисциплиной, не сформированы.</p>
82-68/ С	«хорошо»/ «зачтено (хорошо)»/ «зачтено»	<p>Выставляется обучающемуся, если он знает теоретический и практический материал, грамотно и по существу излагает его на занятиях и в ходе промежуточной аттестации, не допуская существенных неточностей.</p> <p>Обучающийся правильно применяет теоретические положения при решении практических задач профессиональной направленности разного уровня сложности, владеет необходимыми для этого навыками и приемами.</p> <p>Достаточно хорошо ориентируется в учебной и профессиональной литературе.</p> <p>Оценка по дисциплине выставляется обучающемуся с учётом результатов текущей и промежуточной аттестации.</p> <p>Компетенции, закреплённые за дисциплиной, сформированы на уровне – «хороший».</p>

5.3. Оценочные средства (материалы) для текущего контроля успеваемости, промежуточной аттестации обучающихся по дисциплине.

Контрольные вопросы

1. Перепись населения не является
 - а) выборочным исследованием;
 - б) сбором данных о генеральной совокупности;
 - в) выборкой.

2. По некоторой выборке можно судить о генеральной совокупности. В таком случае говорят, что выборка
 - а) нормализована;

- б) структурирована;
- в) репрезентативна;
- г) показательна.

3. Чему равен размах выборки {1, 30, 1000, 24, 99 }?

- а) 98
- б) 999
- в) 1000
- г) 230,8

4. По формуле $\nu(A_k) = \frac{N_k(A_k)}{N}$, где N_k - число опытов, в которых произошло событие A_k

при общем числе испытаний N , определяется:

- а) относительная частота появления события A_k
- б) интегральная частота появления события A_k
- в) размах выборки появления события A_k
- г) репрезентативность появления события A_k

5. Чему равен размах выборки {1, 5, 12, 1, 5, 12, 1, 5}

- а) 3
- б) 11
- в) 4
- г) 8.

6. Плотность вероятности $f(x)$ можно интерпретировать как

- а) как предел отношения вероятности попадания случайной величины X в интервал, содержащий число x , к длине этого интервала при его стремлении к 0;
- б) вероятность того, что случайная величина X принимает значение больше данного числа x ;
- в) вероятность того, что случайная величина X принимает значение меньше данного числа x .

7. Функция распределения $F_X(x)$ случайной величины X можно интерпретировать как

- а) вероятность того, что случайная величина X попадает в интервал, содержащий точку x ;
- б) вероятность того, что случайная величина X принимает значение больше данного числа x ;
- в) вероятность того, что случайная величина X принимает значение меньше данного числа x ;

8. Чему равно математическое ожидание числа, которое выпадает при подбрасывании игральной кости?

- а) 3
- б) 3,5
- в) 1,2,3,4,5,6
- г) 21

9. Известно, что математическое ожидание $M[X]$ некоторой случайной величины X равно 40, а $M[X^2] = 1990$. Чему равна дисперсия?

- а) 1170
- б) 1462500
- в) 390
- г) 1600

10. По таблице функции распределения стандартного нормального распределения определите, какова вероятность попадания реализации случайной величины, имеющей нормальное распределение со средним 1 и дисперсией 100, в интервал $(-\infty; 2]$?

Z	0,00	0,01	0,02	0,03	0,04	0,05	0,06	0,07	0,08	0,09
0	0,5	0,503989	0,507978	0,511967	0,515953	0,519939	0,523922	0,527903	0,531881	0,535856
0,1	0,539828	0,543795	0,547758	0,551717	0,55567	0,559618	0,563559	0,567495	0,571424	0,575345
0,2	0,57926	0,583166	0,587064	0,590954	0,594835	0,598706	0,602568	0,60642	0,610261	0,614092
0,3	0,617911	0,621719	0,625516	0,6293	0,633072	0,636831	0,640576	0,644309	0,648027	0,651732
0,4	0,655422	0,659097	0,662757	0,666402	0,670031	0,673645	0,677242	0,680822	0,684386	0,687933

- а) 0,5
- б) 0,503989
- в) 0,539828
- г) 0,57926

11. По таблице функции распределения стандартного нормального распределения определите, какова вероятность попадания реализации случайной величины, имеющей нормальное распределение со средним 1 и дисперсией 100, в интервал (1;3]?

Z	0,00	0,01	0,02	0,03	0,04	0,05	0,06	0,07	0,08	0,09
0	0,5	0,503989	0,507978	0,511967	0,515953	0,519939	0,523922	0,527903	0,531881	0,535856
0,1	0,539828	0,543795	0,547758	0,551717	0,55567	0,559618	0,563559	0,567495	0,571424	0,575345
0,2	0,57926	0,583166	0,587064	0,590954	0,594835	0,598706	0,602568	0,60642	0,610261	0,614092
0,3	0,617911	0,621719	0,625516	0,6293	0,633072	0,636831	0,640576	0,644309	0,648027	0,651732
0,4	0,655422	0,659097	0,662757	0,666402	0,670031	0,673645	0,677242	0,680822	0,684386	0,687933

- а) 0,57926
- б) 0,617911
- в) 0,078083
- г) 0,07926

12. По таблице функции распределения Стьюдента для двусторонней критической области определите значение $t_{кр.}$ при степени свободы $\nu=10$ и вероятности $P(t < t_{кр.})=97,5\%$

ν/α	0,005	0,01	0,025	0,05	0,1
1	127,3211	63,6559	25,45188	12,70615	6,313749
10	3,581372	3,169262	2,633769	2,228139	1,812462
30	3,029782	2,749985	2,359566	2,04227	1,69726

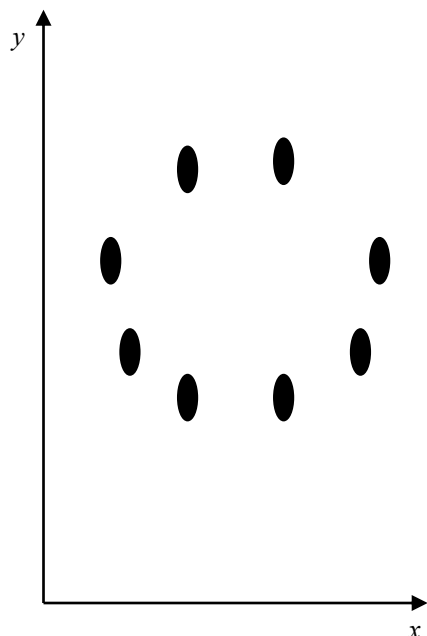
- а) 2,228139
- б) 2,633769
- в) 1,1140685
- г) 1,316885

13. По таблице функции распределения Стьюдента для двусторонней критической области определите, какова вероятность попадания реализации случайной величины в интервал $(2,633769; +\infty)$ при степени свободы $\nu=10$?

ν/α	0,005	0,01	0,025	0,05	0,1
1	127,3211	63,6559	25,45188	12,70615	6,313749
10	3,581372	3,169262	2,633769	2,228139	1,812462
30	3,029782	2,749985	2,359566	2,04227	1,69726

- а) 97,5%
- б) 99,75%
- в) 5%
- г) 1,25%

14. Чему равен парный коэффициент корреляции для переменных, зависимость между которыми отображена на графике?



- а) $r_{xy} = 1$
- б) $r_{xy} = 0$
- в) $r_{xy} = -1$
- г) $r_{xy} = 0,5$

15. Коэффициент корреляции r_{xy} может принимать значения только в пределах:

- а) $-1 < r_{xy} < 1$
- б) $0 < r_{xy} < 1$
- в) $-1 < r_{xy} < 0$
- г) $-1/2 < r_{xy} < 1/2$

16. Для оценки значимости парного коэффициента корреляции используется

- а) t-статистика, рассчитываемая по формуле $t = r \cdot \frac{\sqrt{n-2}}{\sqrt{1-r^2}}$ и $df = n-2$.
- б) F-статистика $F = r \cdot \frac{\sqrt{n-2}}{\sqrt{1-r^2}}$ с параметрами $\nu_1 = n$ и $\nu_2 = r$.

17. При оценке линейной зависимости переменных методом наименьших квадратов в качестве критерия близости используется

- а) минимум суммы модулей разностей наблюдений зависимой переменной y_i и теоретических, рассчитанных по уравнению регрессии значений $(a+bx)$
- б) минимум квадратов разностей наблюдений зависимой переменной y_i и теоретических, рассчитанных по уравнению регрессии значений $(a+bx)$
- в) минимум суммы квадратов разностей наблюдений зависимой переменной y_i и теоретических, рассчитанных по уравнению регрессии значений $(a+bx)$

г) минимум суммы разностей наблюдений зависимой переменной y_i и теоретических, рассчитанных по уравнению регрессии значений $(a+bx)$

18. Какие требования в модели регрессионного анализа предъявляются к математическому ожиданию $M[\varepsilon_i]$ и дисперсии $D[\varepsilon_i]$ ошибок наблюдения ε_i :

- а) $M[\varepsilon_i]=1; D[\varepsilon_i]=\sigma^2$
- б) $M[\varepsilon_i]=0; D[\varepsilon_i]=1$
- в) $M[\varepsilon_i]=0; D[\varepsilon_i]=\sigma^2$
- г) $M[\varepsilon_i]=1; D[\varepsilon_i]=0$

19. По результатам бюджетного обследования случайно выбранных семей построено уравнение регрессии зависимости накоплений S от дохода Y :

$$S_i = -33,5 + 1,05Y_i + e_i$$

Спрогнозируйте накопления семьи, имеющей доход 40 тыс. руб.

- а) 42
- б) 8,5
- в) 4,2
- г) 1,05

20. По результатам бюджетного обследования случайно выбранных семей построено уравнение регрессии зависимости накоплений S от дохода Y :

$$S_i = -33,5 + 1,05Y_i + e_i$$

Как изменятся накопления, если доходы увеличатся на 10 тыс. руб.?

- а) возрастут на 1,05 тыс.руб.
- б) уменьшатся на 33,5 тыс. руб.
- в) возрастут на 10,5 тыс. руб.
- г) данных недостаточно

21. По выборке из 20 наблюдений была оценена парная регрессия $y = a_0 + a_1x$. Для коэффициента регрессии a_1 получена t -статистика: $t_1 = -2,09$. По таблице функции распределения Стьюдента для двусторонней критической области определите, на каком максимальном уровне значим полученный коэффициент.

ν / α	0,005	0,01	0,025	0,05	0,1
15	3,286041	2,946726	2,489878	2,131451	1,753051
16	3,251989	2,920788	2,47288	2,119905	1,745884
17	3,222449	2,898232	2,458055	2,109819	1,739606
18	3,196583	2,878442	2,445004	2,100924	1,734063
19	3,1737	2,860943	2,433444	2,093025	1,729131
20	3,1534	2,845336	2,423112	2,085962	1,724718

- а) $\alpha=0,05$
- б) $\alpha=0,01$
- в) $\alpha=0,1$
- г) $\alpha=0,005$

22. Нулевая гипотеза для коэффициента регрессии b в уравнении парной линейной регрессии $Y=a+bX+e$ проверяется с помощью

- а) статистики Стьюдента;
- б) стандартного нормального распределения;

в) статистики Фишера.

23. По выборке из 20 наблюдений была оценена регрессия $y = a_0 + a_1x_1 + a_2x_2 + a_3x_3$. Для коэффициентов регрессии a_1, a_2, a_3 получены t -статистики: $t_1 = -2,2$; $t_2 = 2,1$; $t_3 = 2,5$. По таблице функции распределения Стьюдента для двусторонней критической области определите, какие из оценок коэффициентов регрессии значимы с доверительной вероятностью 95%.

ν / α	0,005	0,01	0,025	0,05	0,1
15	3,286041	2,946726	2,489878	2,131451	1,753051
16	3,251989	2,920788	2,47288	2,119905	1,745884
17	3,222449	2,898232	2,458055	2,109819	1,739606
18	3,196583	2,878442	2,445004	2,100924	1,734063
19	3,1737	2,860943	2,433444	2,093025	1,729131
20	3,1534	2,845336	2,423112	2,085962	1,724718

а) a_3

б) a_1, a_2, a_3

в) a_2, a_3

г) a_1, a_3

24. По выборке из 20 наблюдений была оценена регрессия $y = a_0 + a_1x_1 + a_2x_2 + a_3x_3$. Для коэффициентов регрессии a_1, a_2, a_3 получены t -статистики: $t_1 = -2,44$; $t_2 = 2,1$; $t_3 = 3,1$. По таблице функции распределения Стьюдента для двусторонней критической области определите, с какой максимальной доверительной вероятностью значимы эти коэффициенты.

ν / α	0,005	0,01	0,025	0,05	0,1
15	3,286041	2,946726	2,489878	2,131451	1,753051
16	3,251989	2,920788	2,47288	2,119905	1,745884
17	3,222449	2,898232	2,458055	2,109819	1,739606
18	3,196583	2,878442	2,445004	2,100924	1,734063
19	3,1737	2,860943	2,433444	2,093025	1,729131
20	3,1534	2,845336	2,423112	2,085962	1,724718

а) 99%

б) 90%

в) 95%

г) 97,5%

25. По выборке из 20 наблюдений была оценена регрессия $y = a_0 + a_1x_1 + a_2x_2$. Для коэффициентов регрессии $a_1 = 100$, $a_2 = 150$ получены значения стандартных отклонений σ : $\sigma_1 = 33$; $\sigma_2 = 51$. По таблице функции распределения Стьюдента для двусторонней критической области определите, с какой максимальной доверительной вероятностью коэффициенты регрессии значимы.

ν / α	0,005	0,01	0,025	0,05	0,1
15	3,286041	2,946726	2,489878	2,131451	1,753051
16	3,251989	2,920788	2,47288	2,119905	1,745884
17	3,222449	2,898232	2,458055	2,109819	1,739606
18	3,196583	2,878442	2,445004	2,100924	1,734063
19	3,1737	2,860943	2,433444	2,093025	1,729131
20	3,1534	2,845336	2,423112	2,085962	1,724718

а) 99%

б) 99,5%

- в) 97,5%
- г) 95%

26. При исследовании зависимости себестоимости продукции y от объема выпуска x_1 и производительности труда x_2 по данным $n=20$ предприятий получено уравнение регрессии $\hat{y} = 2,88 - 0,72 x_1 - 1,51 x_2$ и среднеквадратические отклонения коэффициентов регрессии: $s_{b1} = 0,052$ и $s_{b2} = 0,5$. По таблице функции распределения Стьюдента для двусторонней критической области определите можно ли при уровне значимости $\alpha=0,05$ утверждать, что значимы коэффициенты регрессии

ν / α	0,005	0,01	0,025	0,05	0,1
16	3,251989	2,920788	2,47288	2,119905	1,745884
17	3,222449	2,898232	2,458055	2,109819	1,739606
18	3,196583	2,878442	2,445004	2,100924	1,734063
19	3,1737	2,860943	2,433444	2,093025	1,729131
20	3,1534	2,845336	2,423112	2,085962	1,724718

- а) b_1
- б) b_2
- в) оба значимы
- г) оба незначимы

27. Какой показатель характеризует долю объясненной с помощью регрессии дисперсии в общей дисперсии зависимой переменной?

- а) коэффициент корреляции;
- б) t -статистика;
- в) F -статистика;
- г) коэффициент детерминации.

28. В результате регрессионного анализа получена модель $y = 7,1 + 0,6 x_1 + 0,4 x_2 + 0,1 x_3$, t -статистики коэффициентов регрессии равны соответственно 24,5; 9,7; 0,7; 1,3. Коэффициент детерминации $R^2=0,9$. Чем можно объяснить низкое качество коэффициентов регрессии при второй и третьей переменной?

- а) тем, что количество наблюдений мало;
- б) тем, что x_2 и x_3 фиктивные переменные;
- в) тем, что x_2 и x_3 не влияют на y ;
- г) тем, что x_2 и x_3 линейно зависимы.

29. Признаком мультиколлинерности не является то, что

- а) невысокое значение коэффициента детерминации;
- б) оценки коэффициентов регрессии имеют малую значимость при высоком значении коэффициента детерминации R^2 и соответствующей F -статистики.

30. Переменные, принимающие только два значения 0 и 1 не называются

- а) фиктивными;
- б) двойственными;
- в) бинарными.

31. Фиктивные переменные позволяют исследовать

- а) влияние качественных признаков;
- б) влияние нескольких переменных, взаимосвязанных между собой;
- в) сезонные различия.

32. Для описания влияния образования (высшее, среднее, среднее специальное, неполное среднее) на уровень заработной платы следует ввести фиктивные переменные в количестве:

- а) 1;
- б) 2;
- в) 3;
- г) 4.

33. Объем продажи зонтиков от дождя зависит от сезона (зима, весна, лето, осень). Для учета сезонной составляющей следует ввести фиктивные переменные в количестве

- а) 4;
- б) 3;
- в) 2;
- г) 1.

34. Модель $y = a_0 + a_1 x_1 + a_2 x_2 + a_3 x_3$, где x_1 и x_2 принимают значения 0 и 1, а x_3 - положительное подходит для описания следующей ситуации

- а) зависимость объема продаж тортов от цены в праздничные дни и в будни;
- б) зависимость объема продаж тортов от цены в выходные, праздничные дни и в будни;
- в) зависимость объема продаж от цены зонтиков от дождя в различные времена года;
- г) зависимость объема продаж велосипедов от цены в периоды с октября по март и с апреля по сентябрь включительно.

35. В чем состоит условие гомоскедастичности в регрессионной модели :

- а) $M[\varepsilon_1 \varepsilon_2] = 0$;
- б) $M[\varepsilon_1] < M[\varepsilon_2]$
- в) $M[\varepsilon_1^2] = M[\varepsilon_2^2]$
- г) $M[\varepsilon_1 \varepsilon_2] > 0$

36. Выберите уравнения, которые могут быть преобразованы в уравнения, линейные по параметрам:

- 1) $Y_i = \alpha \cdot \exp(\beta x_i) \cdot \varepsilon_i$
- 2) $Y_i = \alpha \exp(-\beta x_i) + \varepsilon_i$
- 3) $Y_i = \exp(\alpha + \beta x_i + \varepsilon_i)$
- 4) $Y_i = \alpha / \exp(\beta x_i) + \varepsilon_i$

- А) 1 и 3
- Б) 2 и 4
- В) 1 и 4
- Г) 2 и 3

37. При каких условиях на параметры α и β производственная функция в модели Кобба-Дугласа $Y=A \cdot K^\alpha L^\beta$ может быть преобразована в парную линейную регрессию по этим параметрам?

- а) при $\alpha < 1$ и $\beta < 1$
- б) при $\alpha\beta=1$
- в) при $\alpha+\beta=1$
- г) при любых

38. В чем состоит условие гетероскедастичности в регрессионной модели:

- а) $M[\varepsilon_{i1}] = M[\varepsilon_{i2}]$
- б) $M[\varepsilon_{i1}^2] = M[\varepsilon_{i2}^2]$
- в) $M[\varepsilon_{i1}\varepsilon_{i2}] > 0$;
- г) $M[\varepsilon_{i1}^2] < M[\varepsilon_{i2}^2]$

39. Отсутствие автокорреляции в модели может быть выражено следующей записью:

- а) $M[\varepsilon_i] > M[\varepsilon_{i-1}]$;
- б) $D[\varepsilon_i] < D[\varepsilon_{i-1}]$;
- в) $M[\varepsilon_i\varepsilon_{i-1}] = 0$;
- г) $r_{t,t-1} > 0$.

40. Цена на двухкомнатные квартиры $price$ зависит от общей площади $totsq$, площади кухни $kitsq$ и расстояния от центра $dist$ следующим образом:

$$price = 235,6 + 1,8 \cdot totsq + 1,6 \cdot kitsq - 1,7 \cdot dist$$

При этом дисперсия ошибок составляет $s^2=35,24$. В каких пределах может находиться цена на квартиру с параметрами $totsq=32$; $kitsq=6$; $dist=15$ с вероятностью 95% ($t=1,96$).

- А) [208,23; 346,37];
- Б) [265,67; 288,94];
- В) [275,34; 279,26];
- Г) [242,06; 312,54].

41. Цена на двухкомнатные квартиры $price$ зависит от общей площади $totsq$, площади кухни $kitsq$ и расстояния от центра $dist$ следующим образом:

$$price = 235,6 + 1,8 \cdot totsq + 1,6 \cdot kitsq - 1,7 \cdot dist$$

При этом дисперсия ошибок составляет $s^2=35,24$. В каких пределах может находиться цена на квартиру с параметрами $totsq=40$; $kitsq=8$; $dist=5$ с вероятностью 95% ($t=1,96$).

- А) [300,27; 323,54];
- Б) [309,94; 313,86];
- В) [276,66; 347,14];
- Г) [242,83; 380,97].

42. Цена на однокомнатные квартиры $price$ зависит от общей площади $totsq$, площади кухни $kitsq$ и расстояния от автобусной остановки $dist$ следующим образом:

$$price = 184,8 + 2,8 \cdot totsq + 1,3 \cdot kitsq - 3,7 \cdot dist$$

При этом дисперсия ошибок составляет $s^2=51,7$. В каких пределах может находиться цена на квартиру с параметрами $totsq=40$; $kitsq=8$; $dist=5$ с вероятностью 95% ($t=1,96$).

- А) [237; 340,4];
- Б) [274,61; 302,79];
- В) [187,37; 390,03];
- Г) [286,74; 290,66].

43. Цена на однокомнатные квартиры $price$ зависит от общей площади $totsq$, площади кухни $kitsq$ и расстояния от автобусной остановки $dist$ следующим образом:

$$price = 184,8 + 2,8 \cdot totsq + 1,3 \cdot kitsq - 3,7 \cdot dist$$

При этом дисперсия ошибок составляет $s^2 = 51,7$. В каких пределах может находиться цена на квартиру с параметрами $totsq=40$; $kitsq=8$; $dist=5$ с вероятностью 99% ($t=2,58$).

- А) [155,53; 421,87];
- Б) [286,12; 291,28];
- В) [270,18; 307,22];
- Г) [237; 340,4].

44. Цена на однокомнатные квартиры $price$ зависит от общей площади $totsq$, площади кухни $kitsq$ и расстояния от автобусной остановки $dist$ следующим образом:

$$price = 184,8 + 2,8 \cdot totsq + 1,3 \cdot kitsq - 3,7 \cdot dist$$

При этом дисперсия ошибок составляет $s^2 = 31,7$. В каких пределах может находиться цена на квартиру с параметрами $totsq=30$; $kitsq=4$; $dist=4$ с вероятностью 99% ($t=2,58$).

- А) [244,7; 273,7];
- Б) [177,55; 340,85];
- В) [256,62; 261,78];
- Г) [227,5; 290,9].

45. Интервальная оценка при прогнозировании значения случайной величины зависит от

- а) числа значений случайной величины;
- б) дисперсии случайной величины;
- в) среднего значения случайной величины.

46. Какой метод не используется для сглаживания стационарного временного ряда?

- а) метод скользящего среднего;
- б) метод наименьших квадратов;
- в) трехшаговый метод.

47. При нахождении оценок параметров системы одновременных эконометрических уравнений не используется:

- а) трехшаговый метод;
- б) косвенный метод;
- в) метод скользящих средних;
- г) двухшаговый метод.

6. Учебно-методическое и информационное обеспечение дисциплины

6.1. Список источников и литературы

Основная литература

1. Эконометрика, под ред. И.И.Елисейевой. М.: Юрайт, 2022.
2. Практикум по эконометрике, под ред. И.И.Елисейевой. М.: Издательство Финансы и математика, 2-е изд., 2008.
3. Айвазян С.А., Иванова С.С. Эконометрика. М.: Маркет ДС, 2007.
4. Доугерти К. Введение в эконометрику. М.: Инфра-М, 2009. 3-е издание.
5. Лялин В.С., Зверева И.Г., Никифорова Н.Г., Статистика: теория и практика в Excel. М.: Финансы и статистика. 2010.

Дополнительная литература

1. Айвазян С.А., Мхитарян В.С. Прикладная статистика. Основы эконометрики. Издательство: ЮНИТИ-Дана, 2001. 2-е изд.
2. Новиков А.И. Эконометрика. М.: Дашков и К, 2021.
3. Кремер Н.Ш., Путко Б.А. Эконометрика. М.: Юрайт, 2019. 4-е издание.
4. Магнус Я.Р., Катышев П.К., Пересецкий А.А. Эконометрика. Начальный курс. М.: Дело, 2004. 6-е издание.
5. Вербик М. Путеводитель по современной эконометрике. М.: Научная книга, 2008.

6.2 Перечень ресурсов информационно-телекоммуникационной сети «Интернет»

1. Орлов А.И. Эконометрика. Учебник. М.: Издательство "Экзамен", 2002. Режим доступа: <http://www.aup.ru/books/m153/>
2. Национальная электронная библиотека (НЭБ) www.rusneb.ru
3. ELibrary.ru Научная электронная библиотека www.elibrary.ru

7. Материально техническое обеспечение дисциплины

Компьютерные классы с интерактивной доской, компьютерным проектором и с количеством компьютеров не менее 12 с установленным пакетом Excel включающим в себя «Анализ данных». Лекционная аудитория с ПК и компьютерным проектором.

8. Обеспечение образовательного процесса для лиц с ограниченными возможностями здоровья

При необходимости рабочая программа дисциплины может быть адаптирована для обеспечения образовательного процесса лицам с ограниченными возможностями здоровья, в том числе для дистанционного обучения. Для этого от студента требуется представить заключение психолого-медико-педагогической комиссии (ПМПК) и личное заявление (заявление законного представителя).

В заключении ПМПК должно быть прописано:

- рекомендуемая учебная нагрузка на обучающегося (количество дней в неделю, часов в день);
- оборудование технических условий (при необходимости);
- сопровождение и (или) присутствие родителей (законных представителей) во время учебного процесса (при необходимости);
- организация психолого-педагогического сопровождение обучающегося с указанием специалистов и допустимой нагрузки (количества часов в неделю).

Для осуществления процедур текущего контроля успеваемости и промежуточной аттестации обучающихся, при необходимости могут быть созданы фонды оценочных средств, адаптированные для лиц с ограниченными возможностями здоровья и позволяющие оценить достижение ими запланированных в основной образовательной программе результатов обучения и уровень сформированности всех компетенций, заявленных в образовательной программе.

Форма проведения текущей и итоговой аттестации для лиц с ограниченными возможностями здоровья устанавливается с учетом индивидуальных психофизических особенностей (устно, письменно (на бумаге, на компьютере), в форме тестирования и т.п.). При необходимости студенту предоставляется дополнительное время для подготовки ответа на зачете или экзамене.

9. Методические материалы

9.1. Планы практических занятий

В течение 2-х семестров студенты должны выполнить пять лабораторных работ.

Цель лабораторных работ – помочь студентам овладеть методами эконометрики и применять полученные знания для решения конкретных задач в будущей самостоятельной работе.

Особенностью лабораторных работ является их компьютерная направленность. В качестве программной среды используются средства Microsoft Excel.

Выполнив все лабораторные работы, студент должен уметь:

- выделить проблему, исследование которой может быть связано со статистическим анализом;
- сформулировать математическую постановку задачи;
- собрать экспериментальный материал и сформировать выборку;
- с учетом поставленной задачи, используя методы математической статистики, провести обработку и анализ данных;
- использовать вычислительную технику при выполнении расчетов.

Перед выполнением лабораторной работы студент должен проработать относящийся к ней теоретический материал.

Выполнение каждой лабораторной работы протекает в несколько этапов. Сначала студент ознакомится с основными положениями и общей постановкой задачи. Затем под руководством преподавателя решает общую конкретную задачу, на примере которой осваивает методы эконометрики и проводит анализ полученных результатов.

По каждой лабораторной работе студент получает индивидуальное задание, которое выполняется и оформляется в виде отчета.

Преподаватель проверяет правильность и понимание студентом полученных результатов и засчитывает студенту лабораторную работу только после его ответов на контрольные вопросы.

Перечень лабораторных работ

№ темы	№ п/п	Содержание
Тема 1	1	Лабораторная работа №1. Элементы математической статистики
Тема 2	2	Лабораторная работа №2. Элементы корреляционного анализа
Тема 3	3	Лабораторная работа №3. Парная линейная регрессия. Нелинейная парная регрессия
Тема 4	4	Лабораторная работа №4. Множественная линейная регрессия
Тема 5	5	Лабораторная работа №5. Временные ряды. Автокорреляция остатков. Метод скользящего среднего

Лабораторные работы охватывают следующие темы:

- элементы математической статистики

- модели парной линейной регрессии, построенные для разных групп данных. Сравнение качества моделей
- модели парной нелинейной регрессии
- модели множественной регрессии, проверка условий Гаусса-Маркова
- динамические модели, скользящие средние

Ниже подробно раскрывается содержание лабораторных работ.

Лабораторная работа № 1. Элементы математической статистики

Лабораторная работа № 1.1. Построение гистограммы распределения непрерывной случайной величины

Для выполнения данной работы потребуется выборка, характеризующая некоторую случайную величину. Выберем эти данные из ИНТЕРНЕТА. По данным, характеризующим цены акций в последовательные моменты времени, построим соответствующую последовательность относительных доходностей по формуле:

$$X_{t+1} = (P_{t+1} - P_t) / P_t,$$

где P_t – цена в момент t и X_{t+1} – относительная доходность за период от t до $t+1$.

Используя **Вставка\Диаграмма\Мастер диаграмм**, построить на отдельном листе диаграмму значений X_{t+1}

Необходимо построить гистограмму распределения случайной величины X_{t+1} . Для этого используем **Сервис \ Анализ данных \ Гистограмма**.

Выполнение

Скопируйте файл в свой рабочий каталог.

Предварительно определим размах выборки, ее максимальное и минимальное значение. Для этого, начиная с клетки D1, создайте таблицу по образцу.

Таблица 1.1.

Анализ непрерывной случайной величины	
Максимальное значение	= МАКС(Ваш интервал значений)
Минимальное значение	= МИН(Ваш интервал значений)
Размах выборки	= E2-E3

Чтобы ввести формулы в ячейки E2 и E3, воспользуйтесь командой **Вставка\Функция**

Раздел **Статистические**. Адреса клеток вводят латинскими буквами, либо указывают требуемый диапазон с помощью мыши. В ячейках с формулами отобразятся результаты вычислений.

Выберем количество интервалов 10. Для подсчета частоты, с которой значения попадают в тот или иной интервал, зададим их верхние границы в диапазоне H2:H12:

Верхняя граница интервала
=E3
=H3+\$E\$4/10
=H4+\$E\$4/10
=H5+\$E\$4/10
=H6+\$E\$4/10

=H7+\$E\$4/10
=H8+\$E\$4/10
=H9+\$E\$4/10
=H10+\$E\$4/10
=H11+\$E\$4/10
=H12+\$E\$4/10
=H3+\$E\$4/10
=H4+\$E\$4/10

Теперь введите данные в окно **Сервис \ Анализ данных \ Гистограмма** по образцу.

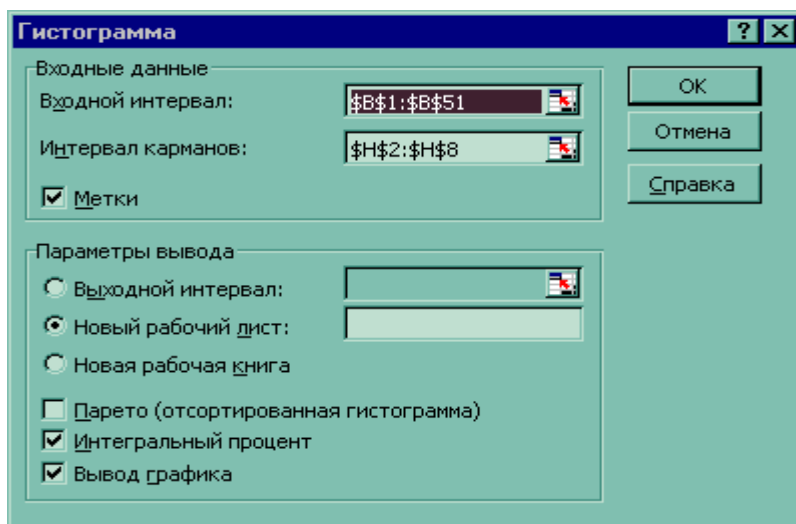


Рис. 1.1

Замечания: во Входном интервале указываете Ваш интервал; в Интервале карманов \$H\$2:\$H\$12, в ячейке Метки метку не ставить.

После нажатия кнопки ОК на новой странице появится таблица абсолютных и интегральных частот, а также их график. На нем сплошной линией будет отображена кривая интегральных частот, ведущая себя также как функция распределения, а столбчатая гистограмма отображает распределение абсолютных частот.

Лабораторная работа №1.2. Характеристики случайной величины

П Р И М Е Р

Для некоторой фирмы имеется выборка значений объема располагаемого сырья по дням недели (табл.1.2.).

Таблица 1.2.

День	пн	вт	ср	чт	пт	сб
------	----	----	----	----	----	----

Объем поставки	140	110	85	80	130	115
-----------------------	-----	-----	----	----	-----	-----

Определить максимальное и минимальное значение и оценки для среднего значения, дисперсии, стандартного отклонения объема.

Выполнение

Для расчета основных характеристик случайных величин используются статистические функции Excel, а также средство Описательная статистика из Пакета анализа.

1. Воспользуемся статистическими функциями.

Введите данные в ячейки:

A3: Характеристики случайной величины

A4: среднее значение

A5: дисперсия

A6: стандартное отклонение

A7: максимальное значение

A8: минимальное значение

B4: =СРЗНАЧ(B2:G2)

B5: =ДИСП(B2:G2)

B6: =СТАНДОТКЛОН(B2:G2)

B7: =МАКС(B2:G2)

B8: =МИН(B2:G2)

Аналогично примеру найти выборочное среднее значение, дисперсию, выборочное стандартное отклонение, максимальное и минимальное значение относительных доходностей.

Внимание: номера ячеек должны соответствовать расположению данных по относительным доходностям.

Используя **Данные/Фильтр/Автофильтр**, найти долю (в процентах) элементов выборки относительных доходностей, попадающих в интервалы $(M[x] - \sigma[x], M[x] + \sigma[x])$, $(M[x] - 2\sigma[x], M[x] + 2\sigma[x])$ и $(M[x] - 3\sigma[x], M[x] + 3\sigma[x])$ соответственно. В качестве $M[x]$ и $\sigma[x]$ взять выборочное среднее и выборочное стандартное отклонение соответственно.

2. ПРОДОЛЖЕНИЕ ПРИМЕРА

С помощью средства **Описательная статистика** из Пакета анализа можно получить значительно больше характеристик случайной величины.

После выбора пункта меню **Сервис \ Анализ данных...\Описательная статистика** укажите в качестве входного интервала A2:G2, поставьте флажки **Метки в первом столбце** и **Итоговая статистика**, а переключатель **Группирование** в положение **строки**. Результат представлен в таблице 1.3.

Таблица 1.3.

Объем поставок	
Среднее	110
Стандартная ошибка	9,746794
Медиана	112,5
Мода	
Стандартное отклонение	23,87467
Дисперсия выборки	570
Экцесс	-1,57202
Асимметричность	-0,16534
Интервал (размах)	60
Минимум	80
Максимум	140
Сумма	660
Счет (<i>n</i>)	6

Аналогично примеру используете средство **Описательная статистика** для своих данных.

Лабораторная работа №1.3. Параметры нормального распределения

П Р И М Е Р

Для задачи из ЛР №1.2. построить функцию распределения $F(x)$ и плотность распределения $f(x)$, исходя из предположения о нормальном распределении случайной величины.

Выполнение

Построим функции для отрезка $M[x]-3\sigma[x] \leq x \leq M[x]+3\sigma[x]$, так как случайная величина находится в этом интервале с точностью до 0,3%. Для этого в диапазоне A10:T10 рассчитаем значения x :

A10: x

B10: $=B\$4-3*B\6

C10: $=B10+B\$6/3$

Затем необходимо скопировать формулу из ячейки C10 в диапазон D10:T10.

A11: $F(x)$

A12: $f(x)$

B11: =НОРМРАСП(B10;\$B\$4;\$B\$6;ИСТИНА)

B12: =НОРМРАСП(B10;\$B\$4;\$B\$6;ЛОЖЬ)

Затем необходимо скопировать формулы из ячеек B11:B12 в диапазон C11:T12.

Закон распределения можно представить в более наглядной форме, используя диаграмму **Тип Нестандартная Графики (2 оси)**, Исходные данные A10:T10 расположены в строках.

Полученная диаграмма представлена на рис.1.2.

По графику без труда можно определить, например, что случайная величина «объем располагаемого сырья» может принимать значения, меньшие 102 с вероятностью 40%; или,

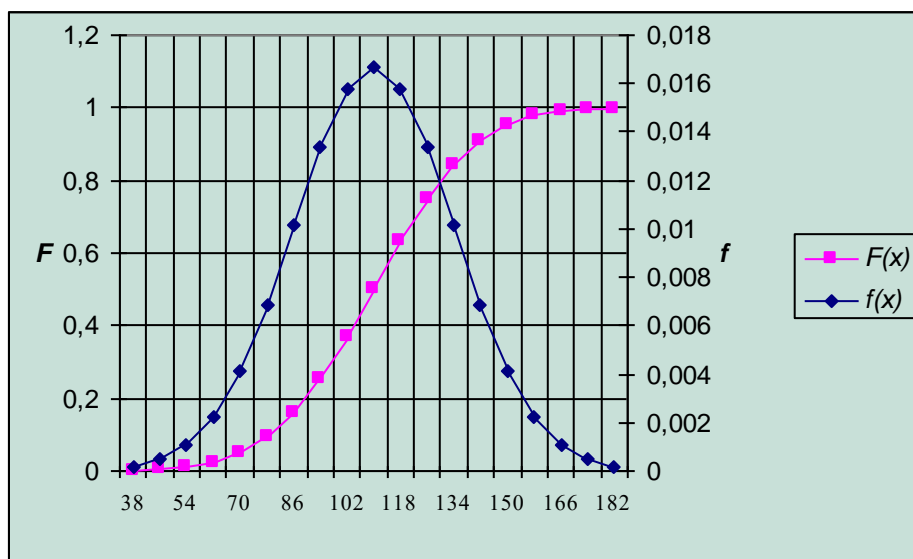


Рис. 1.2

вероятность того, что значение случайной величины будет больше 150 равно 3%.

Аналогично примеру постройте плотность $f(x)$ и функцию распределения $F(x)$ для своих данных.

Внимание: номера ячеек должны соответствовать расположению данных по относительным доходностям.

Лабораторная работа №2. Элементы корреляционного анализа

Пример выполнения задания 2. Предположим, что застройщик оценивает стоимость группы небольших офисных зданий в традиционном деловом районе. Застройщик может использовать корреляционный анализ для установления связи между выбранными переменными.

Переменная Смысл переменной

y	Оценочная цена здания под офис, тыс. \$;
x1	Общая площадь в квадратных метрах;
x2	Количество офисов;
x3	Количество входов;
x4	<u>Время эксплуатации здания в годах.</u>

В этом примере предполагается, что существует линейная зависимость между каждой независимой переменной (x1, x2, x3 и x4) и зависимой переменной (y), то есть ценой здания под офис в данном районе. Застройщик наугад выбирает 11 зданий из имеющихся 1500 и получает следующие данные.

x1	x2	x3	x4	y
2310	2	2	20	142
2333	2	2	12	144
2356	3	1,5	33	151
2379	3	2	43	150
2402	2	3	53	139
2425	4	2	23	169
2448	2	1,5	99	126
2471	2	2	34	142
2494	3	3	23	163
2517	4	4	55	169
2540	2	3	22	149

"Пол-входа" (1/2) означает вход только для доставки корреспонденции.

Необходимо установить степень тесноты связи между объясняющими переменными и объясняемыми.

Выполнение

Для вычисления коэффициента корреляции между двумя наборами данных на листе используется статистическая функция **КОРРЕЛ** или метод **Корреляция** из Пакета анализа.

Заполним данными диапазон A1:E12.

1. Для нахождения парной регрессии (например, между площадью и ценой) используем функцию **КОРРЕЛ()**, указав в окне диалога диапазоны A2:A12 и E2:E12. Полученное значение 0,32 свидетельствует о наличии слабой линейной связи между выбранными переменными.
2. Чтобы найти коэффициенты корреляции между всеми парами переменных воспользуемся средством **Корреляция** из **Анализа данных**. В окне диалога необходимо указать входной

интервал, наличие меток (подписей к данным) в первой строке, название листа, на котором будут отображены результаты анализа.

	$x1$	$x2$	$x3$	$x4$	y
$x1$	1				
$x2$	0,22	1			
$x3$	0,62	0,31	1		
$x4$	0,22	-0,05	-0,05	1	
y	0,32	0,88	0,51	-0,45	1

Рис. 2.1. Окно диалога «Корреляция».

После выполнения анализа из отчета можно увидеть, что в наибольшей степени цена дома определяется количеством офисов в нем (коэффициент корреляции 0,88). Отрицательно на цене сказывается возраст дома, – чем он больше, тем дом дешевле (коэффициент корреляции -0,45). Можно также сделать вывод о существующей линейной зависимости площади дома и количества входов в него – коэффициент корреляции 0,62.

ЗАДАНИЕ. Для выполнения работы потребуются выборки, характеризующие группу случайных величин: цены открытия (OPEN), цены закрытия (CLOSE) и объем торгов (VOL). Сначала, применяя **Мастер диаграмм**, следует построить точечные корреляционные поля для пар OPEN (1-я половина данных) * CLOSE (1-я половина данных), OPEN (все данные) * CLOSE (все данные), CLOSE (1-я половина данных) * VOL (1-я половина данных), CLOSE (все данные) * VOL (все данные).

Затем, используя статистическую функцию **КОРРЕЛ**, надо найти парные коэффициенты корреляции для всех пар, указанных выше.

Применяя **АНАЛИЗ ДАННЫХ/Корреляция**, построить корреляционные таблицы для троек OPEN (1-я половина данных) * CLOSE (1-я половина данных) * VOL (1-я половина данных) и OPEN (все данные) * CLOSE (все данные) * VOL (все данные).

Используя статистическую функцию **ЛИНЕЙН**, найти параметры прямых по методу наименьших квадратов для пар значений OPEN, CLOSE и CLOSE, VOL.

Лабораторная работа №3. Парная линейная регрессия. Нелинейная парная регрессия

Лабораторная работа №3.1. Парная линейная регрессия.

Применяя **АНАЛИЗ ДАННЫХ/регрессия**, построить 6 моделей парной линейной регрессии для пар:

1. OPEN * CLOSE (через 1 час)
2. OPEN (1-я половина данных) * CLOSE (через 1 час) (1-я половина данных)

3. OPEN * CLOSE (через 9 часов)
4. OPEN (1-я половина данных) * CLOSE (через 9 часов) (1-я половина данных)
5. OPEN * CLOSE (через 45 часов)
6. OPEN (1-я половина данных) * CLOSE (через 45 часов) (1-я половина данных)

Замечание: в картинке *Регрессия* установить *Уровень надежности* в 99% и отметить только вывод *Графика подбора* на *Новом рабочем листе*.

Во всех моделях проверить статистическую значимость параметров модели при уровнях значимости 1% и 5%. Сравнить качество моделей, объяснить различие.

Содержание отчета:

1. Экономическая постановка задачи.
2. Математическая постановка задачи.
3. Алгоритм решения задачи.
4. Результаты решения задачи
5. Экономическая интерпретация полученных результатов

Лабораторная работа №3.2. Нелинейная парная регрессия.

1. Построить 2 модели парной нелинейной регрессии, взяв в 1-й модели в качестве независимой переменной цены открытия (столбец OPEN) и зависимой переменной – цены закрытия через 1 час (столбец CLOSE); во 2-й модели рассмотреть пару OPEN – CLOSE через 45 часов. Считаем, что зависимость степенная (см. Пример ниже).
2. Проверить статистическую значимость коэффициентов регрессии.
3. Сравнить качество построенных моделей и соответствующих моделей парной линейной регрессии, построенных по тем же переменным

П Р И М Е Р

На практике часто встречается ситуация, когда априорно известен нелинейный характер зависимости между объясняемыми и объясняющими переменными. В этом случае функция f в уравнении $y=f(a,x)$ нелинейна (a – вектор параметров функции, которые нам нужно оценить). Например, вид зависимости между ценой и количеством товара в той же модели спроса и предложения: она не всегда предполагается линейной, как в нашем примере.

Нелинейную функцию можно преобразовать в линейную (например, логарифмированием).

Если нелинейная зависимость может быть записана в виде суммы функций от неизвестных x_i (например, $y = a + bx_1 + cx_1^2 + hx_2$), то можно построить новые ряды данных (для примера в скобках - ряд данных x_1^2) и оценить с ними линейную регрессию. Наиболее распространенные виды функций и преобразований данных, необходимые для построения

нужного набора новых переменных, обычно заложены в прикладные регрессионные пакеты. Продemonстрируем преобразование нелинейной функции в линейную на примере функции Кобба-Дугласа.

Пусть требуется оценить параметры производственной функции Кобба-Дугласа

$$Y = A X^a Z^b.$$

Для линеаризации прологарифмируем обе части:

$$\ln Y = \ln A + \alpha \ln X + \beta \ln Z.$$

Полученная формула линейна относительно логарифмов выпуска Y , капитала X и труда Z , и она может быть оценена как множественная линейная регрессия.

Лабораторная работа №4. Множественная линейная регрессия.

1. Построить модель множественной линейной регрессии, взяв в качестве независимых переменных цены открытия и объем торгов (столбцы OPEN и VOL) и зависимой переменной – цены закрытия (столбец CLOSE). См. Пример ниже.
2. Проверить статистическую значимость коэффициентов регрессии.
3. Сравнить качество построенной модели и модели парной линейной регрессии, построенной по переменным OPEN и CLOSE. Можно ли удалить какую-либо переменную из модели множественной регрессии без заметного ухудшения качества модели ?

П Р И М Е Р

Используя множественный регрессионный анализ, оценить цену офисного здания в заданном районе на основе описанных переменных (см. лаб. раб. 2).

Выполнение.

Для нахождения уравнения регрессии с помощью функции ЛИНЕЙН() необходимо выполнить следующие шаги.

1. Озаглавьте область будущего отчета, введя в клетку G1: Регрессионный анализ. Выделите диапазон G2:K9. Размер диапазона выбирается следующим образом. Число строк – одна, если требуется получить только коэффициенты регрессии, пять, если необходимо получить дополнительную статистику. Число столбцов соответствует числу переменных.

2. Выберите функцию ЛИНЕЙН() из раздела статистические и заполните окно диалога согласно рис.4.1.

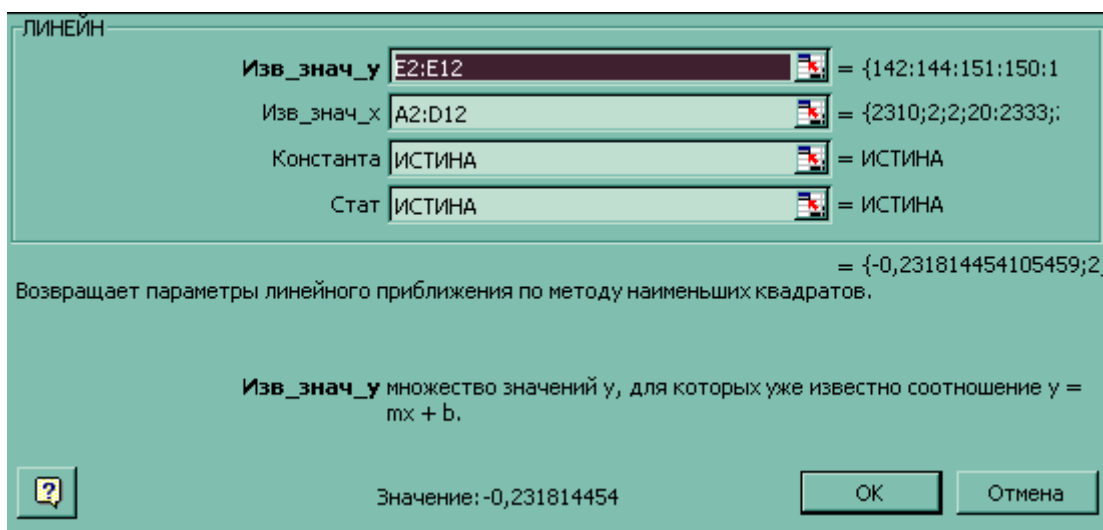


Рис. 4.1.

Известные_значения_y - это множество значений y, которые уже известны (E2:E12).

Известные_значения_x - это множество значений x, которые уже известны для соотношения (A2:D12). Массив известные_значения_x может содержать одно или несколько множеств переменных при условии, что они имеют одинаковую размерность с массивом известные_значения_y.

Конст – это логическое значение, которое указывает, требуется ли, чтобы константа α_0 была равна 0. Если конст имеет значение ИСТИНА или опущено, то α_0 вычисляется обычным образом. Если конст имеет значение ЛОЖЬ, то α_0 полагается равным 0 и значения α_1 подбираются так, чтобы выполнялось соотношение $y = \alpha_1 x$.

Статистика – это логическое значение, которое указывает, требуется ли вернуть дополнительную статистику по регрессии. Если статистика имеет значение ИСТИНА, то функция ЛИНЕЙН возвращает дополнительную регрессионную статистику. Если статистика имеет значение ЛОЖЬ или опущена, то функция ЛИНЕЙН возвращает только коэффициенты α_i .

3. Функция ЛИНЕЙН() является формулой массива. Поэтому после заполнения окна диалога необходимо комбинацией Shift-Ctrl-Enter завершить заполнение выделенного диапазона.

=ЛИНЕЙН(E2:E12;A2:D12;ИСТИНА;ИСТИНА)

возвращает следующие результаты.

-0,23181	2,7092	12,61839	0,025561	56,58702
----------	--------	----------	----------	----------

0,013728	0,54907	0,413939	0,005618	12,66169
0,996544	1,004233	#Н/Д	#Н/Д	#Н/Д
432,4997	6	#Н/Д	#Н/Д	#Н/Д
1744,676	6,050904	#Н/Д	#Н/Д	#Н/Д

Теперь может быть получено уравнение множественной регрессии

$$y = \alpha_1 x_1 + \alpha_2 x_2 + \alpha_3 x_3 + \alpha_4 x_4 + \alpha_0:$$

$$y = 0,03x_1 + 12,62x_2 + 2,71x_3 - 0,02x_4 + 56,59$$

По этому уравнению застройщик может определить оценочную стоимость здания под офис в том же районе, которое имеет площадь 2500 квадратных метров, три офиса, два входа, зданию 25 лет, используя следующее уравнение:

$$y = 0,03 \cdot 2500 + 12,62 \cdot 3 + 2,71 \cdot 2 - 0,02 \cdot 25 + 56,59 = 175,37 \text{ тыс. \$}.$$

Лабораторная работа №5. Временные ряды. Автокорреляция остатков. Метод скользящего среднего.

Лабораторная работа №5.1. Автокорреляция остатков.

Построить модель парной линейной регрессии, взяв в качестве зависимой переменной Y – цены закрытия (столбец CLOSE), а в качестве независимой переменной X – порядковые номера. Установить, существует ли автокорреляция остатков, с помощью:

- визуального отображения данных, построив 2 графика. Один график в координатах (порядковый номер i , остаток e_i). Второй график – в координатах (остаток e_{i-1} , остаток e_i);
- статистики Дарбина-Уотсона (см. текст ниже)

Автокорреляция остатков

Близкое к единице значение коэффициента детерминации R^2 еще не свидетельство высокого качества уравнения регрессии. Поэтому следующий этап проверки качества уравнения регрессии - проверка некоторых важных свойств, выполнение которых предполагалось при оценивании уравнения регрессии. Одним из основных предполагаемых свойств отклонений e_i значений y_i от регрессионной формулы $y = \alpha + \beta x$ является их статистическая независимость между собой. Проверяется обычно их некоррелированность (являющаяся необходимым, но недостаточным атрибутом независимости), причем некоррелированность соседних величин e_i . Соседними можно считать соседние во времени (в случае временных рядов) или по возрастанию переменной x (в случае перекрестных выборок) значения e_i . Практически используют статистику Дарбина-Уотсона DW, рассчитываемую по формуле:

$$DW = \frac{\sum_i (e_i - e_{i-1})^2}{\sum_i e_i^2}$$

По таблицам находятся (при данном уровне значимости, числе наблюдений и независимых переменных) доверительные интервалы, в пределах которых нулевая гипотеза (отсутствие автокорреляции остатков e_i) принимается, отвергается или не может быть принята или отвергнута. Важно, что для статистики Дарбина-Уотсона существуют два критических значения, меньшие двух: нижнее d_l , как граница для признания положительной автокорреляции остатков и верхнее d_u как граница признания ее отсутствия. Для проверки гипотезы об отрицательной автокорреляции остатков эти критические значения отражаются симметрично относительно числа 2 (рис.6.4.).

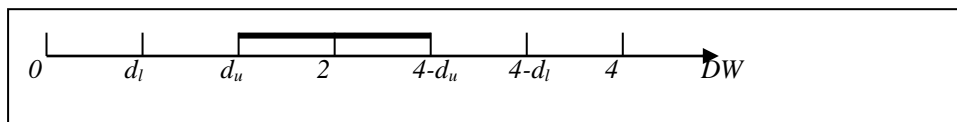


Рис. 5.1.

Пример 6.2.

Пусть оценена парная линейная регрессия по 15 наблюдениям, и $DW = 1,1$. Зададим уровень значимости 5% и найдем по таблицам $d_l = 0,95$; $d_u = 1,23$. Нулевая гипотеза была бы принята при $d_u = 1,23 < DW < 2,77 = 4 - d_u$ и отвергнута при $DW < 0,95 = d_l$, или $DW > 3,05 = 4 - d_l$.

Поскольку в данном случае DW лежит между d_u и d_l , нулевая гипотеза не может быть ни принята, ни отвергнута. Если альтернативной гипотезой является гипотеза о положительной автокорреляции остатков (отрицательная из содержательных соображений отбрасывается), то критические значения $d_u = 1,23$ и $d_l = 0,95$ соответствуют 2,5%-ному уровню значимости.

Конец примера

Как в общем случае выглядят примерно критические величины статистики DW ? В первом приближении можно сказать, что при достаточном числе наблюдений (не меньше 12-15), при 1-3 объясняющих переменных DW должна быть не менее 1 (и не больше 3). В противном случае мы признаем существование автокорреляции остатков и попытаемся улучшить формулу. Если статистика DW находится приблизительно между 1,2-1,3 и 2,7-2,8, мы можем считать, что статистически значимая автокорреляция остатков отсутствует. В промежуточном случае достаточно надежный вывод сделан быть не может. Если число наблюдений растет, то критические значения статистики Дарбина-Уотсона d_l и d_u приближаются к двум: для 60-70 наблюдений ее нижнее критическое значение d_l составляет

примерно 1,4-1,5. Это верно для прежнего относительно малого числа объясняющих переменных; если это число растет, то критическое значение DW становится меньше.

Итак, обобщая, *если статистика Дарбина-Уотсона составляет 1,5-2,0-2,5, мы хотя и не можем быть абсолютно уверены, что отклонения от линии регрессии взаимно независимы, но обычно удовлетворяемся этим в проверке их независимости.*

В случае наличия автокорреляции остатков полученная формула регрессии считается обычно неудовлетворительной. Взглянув на график поведения отклонений e_i , можно поискать другую (нелинейную) формулу, включить неучтенные до этого факторы, уточнить период проведения расчетов или разбить его на части, либо применить к данным уменьшающее автокорреляцию остатков преобразование (например, автокорреляционное преобразование или метод скользящих средних).

Статистика DW позволяет проверить некоррелированность отклонений от линии регрессии. Некоторые другие свойства этих отклонений (например, постоянство их дисперсии) могут быть также проверены с помощью специальных статистик. Мы не будем останавливаться на этом подробно, упомянув лишь о существовании самой проблемы. Рассуждения при этом могут быть подобными прежним: если значения тестовых статистик "плохие", то можно попытаться уточнить формулу связи, набор объясняющих переменных или процедуру оценивания.

Лабораторная работа №5.2. Метод скользящего среднего.

Для временного ряда $Y(t)$, где $Y(t)$ - значение цены в момент времени (порядковый номер) t , построить 3 кривые методом скользящего среднего (см. текст ниже), используя
Сервис → Анализ данных → Скользящее среднее со значениями интервалов 3, 21, 35.

Сравнить полученные кривые.

Методы сглаживания временного ряда

Под методами сглаживания временного ряда понимается выделение неслучайной составляющей. Предположим, что известен общий вид неслучайной составляющей $F(t)$ для ряда $Y(t) = F(t, \alpha) + \varepsilon(t)$. Это может быть полином, ряд Фурье и т.д. Тогда возникает задача оценки параметров α . В такой постановке задачи используются аналитические методы. Если вид неслучайной составляющей неизвестен $F(t)$, то используются алгоритмические методы. К таким методам относится метод скользящего среднего, лежащий в основе более сложных процедур сглаживания.

Метод скользящего среднего

В основе методов исключения случайных отклонений лежит следующая идея: если разброс значений ряда $Y(t)$ около своего среднего значения a характеризуется дисперсией σ^2 , то

разброс среднего из N членов временного ряда $(Y_1 + \dots + Y_N)/N$ около того же значения будет характеризоваться гораздо меньшей величиной дисперсии, а именно σ^2/N . Уменьшение дисперсии и означает сглаживание траектории.

Предположим, что ошибки $\varepsilon(t)$ некоррелированы по времени, иначе применение МНК даст смещенные оценки. Процедура сглаживания временного ряда состоит в следующем. Пусть n – число уровней ряда, m – произвольное число, не превосходящее $n/3$, обычно не больше 3, и $N=2m+1$. Тогда оценки вычисляются следующим образом:

$$\hat{F}(t) = \sum_{k=-m}^{k=m} w_k Y(t+k), \quad t = m+1, m+2, \dots, n-m \quad \text{и} \quad \sum_{k=-m}^{k=m} w_k = 1$$

– веса, определяемые

полиномиальным приближением $\hat{F}(t)$ при заданном m и p – порядке полинома. В частности,

при $p=1$ $w_k = \frac{1}{2m+1}$.

АННОТАЦИЯ РАБОЧЕЙ ПРОГРАММЫ ДИСЦИПЛИНЫ

Дисциплина «Эконометрика» реализуется кафедрой моделирования в экономике и управлении факультета управления Института экономики, управления и права.

Цель дисциплины: подготовить специалиста, способного на основе описания экономических процессов и явлений строить стандартные теоретические и эконометрические модели, анализировать и содержательно интерпретировать полученные результаты.

Задачи дисциплины:

- овладеть основными математико-статистическими методами построения эконометрических моделей,
- научиться строить эконометрические модели на основе реальных статистических данных,
- развить навыки содержательно интерпретировать построенные модели.

Дисциплина направлена на формирование следующих *компетенций*:

ОПК-2 - Способен осуществлять сбор, анализ и использование данных хозяйственного, налогового и бюджетного учетов, учетной документации, бухгалтерской(финансовой), налоговой и статистической отчетности в целях оценки эффективности и прогнозирования финансово-хозяйственной деятельности хозяйствующего субъекта, а также выявления, предупреждения, локализации и нейтрализации внутренних и внешних угроз и рисков;

ОПК-6 - Способен использовать современные информационные технологии и программные средства при решении профессиональных задач;

ОПК-7 - Способен понимать принципы работы современных информационных технологий и использовать их для решения задач профессиональной деятельности

В результате освоения дисциплины обучающийся должен

Знать

- основные математико-статистические методы построения эконометрических моделей и оценки качества моделей;

уметь

- работать с программными продуктами, позволяющими применить эконометрические методы к анализу реальных статистических данных;

владеть

- навыками содержательной интерпретации построенных эконометрических моделей.

По дисциплине предусмотрена промежуточная аттестация в форме экзамена.

Общая трудоемкость освоения дисциплины составляет 3 зачетные единицы, 108 часов.